

阶段评估测评卷(月考二)



时间:70 分钟 满分:110 分

题号	一	二	三	四	五	六	附加题	总分
得分								

一、快乐填一填。(27 分)

1. 6 个 7 相加是(), 比 5 个 7 相加多()。

2. 7×9 表示()个()相加, 或()个()相加。

3. 将乘法口诀补充完整。

七七() ()八五十六 ()八十一

三()二十一 四九() ()四十

4. 先补充乘法口诀, 再写出乘法算式。(6 分)

七八()


$$\square \bigcirc \square = \square$$

$$\square \bigcirc \square = \square$$

五九()

$$\square \bigcirc \square = \square$$

$$\square \bigcirc \square = \square$$

5.  上面应该填几?(3 分)

$$7 \times \text{bean} = 63$$

$$\text{bean} \times 8 = 64$$

$$\text{bean} \times 9 = 18$$

$$9 \times \text{bean} = 45$$

$$\text{bean} \times 9 = 81$$

$$\text{bean} \times 6 = 36$$

6. 找规律填数。(6 分)

(1) 9, 18, (), (), 45, 54, ()。

(2) 36, (), 28, 24, (), ()。

二、精挑细选我最棒。(将正确答案的序号填在括号里)(4 分)

1. 能用“六九五十四”这句乘法口诀计算的算式是()

A. 5×9

B. 6×9

C. 7×9

2. 能表示 4 个 7 的和的算式是()

A. 7×4

B. $7 + 4$

C. 5×7

3. 得数是 64 的算式是()

A. $8 \times 5 + 8$

B. $8 \times 6 + 8$

C. $8 \times 7 + 8$



4. 如果 $\triangle + \triangle + \triangle = 24$ $\bigcirc + \bigcirc = 14$, 那么 $\triangle + \bigcirc = (\quad)$

A. 15

B. 12


C. 22

三、快乐连一连。(7分)

1. 小兔们分别拔了哪些萝卜?(4分)




2. 他们分别看到的是闹钟的哪一面?(3分)




四、在方格纸中涂色表示算式。(4分)

$$6 \times 4$$



$$8 \times 3$$



五、计算小能手。(27分)

1. 口算小能手。(8分)

$$8 \times 9 =$$

$$8 \times 8 =$$

$$7 \times 9 =$$

$$5 \times 8 =$$

$$7 \times 6 =$$

$$8 \times 7 =$$

$$9 \times 9 =$$

$$9 \times 6 =$$

$$6 \times 6 =$$

$$5 \times 9 =$$

$$6 \times 8 =$$

$$7 \times 7 =$$

$$6 \times 9 =$$

$$7 \times 8 =$$

$$6 \times 7 =$$

$$3 \times 8 =$$



2. 细心计算。(9 分)

$4 \times 6 + 8 =$

$5 \times 7 + 6 =$

$6 \times 9 + 7 =$

$8 \times 4 + 8 =$

$9 \times 5 - 15 =$

$6 \times 8 - 20 =$

$7 \times 8 + 6 =$

$9 \times 7 + 8 =$

$8 \times 5 + 16 =$

3. 括号里最大能填几?(6 分)

$(\quad) \times 7 < 50$

$6 \times (\quad) < 30$

$5 \times (\quad) < 40$

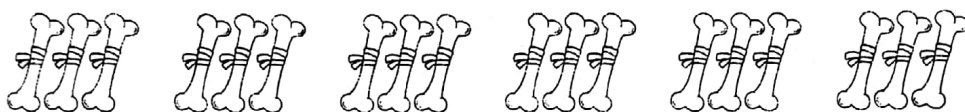
$9 \times (\quad) < 50$

$8 \times (\quad) < 60$

$6 \times (\quad) < 40$

4. 看图列式计算。(4 分)

(1) 一共有多少根骨头?



$\square \bigcirc \square = \square \text{ (根)}$

(2) 一共有多少只蝴蝶?



$\square \bigcirc \square \bigcirc \square = \square = \text{ (只)}$

六、生活中的数学应用。(31 分)

1.



每个小朋友每天
要保证9小时的睡
眠时间。

每个小朋友一周要保证睡多少小时?(5 分)

2. 这本书一共有多少页?(5 分)

我每天看5页,
8天看完。



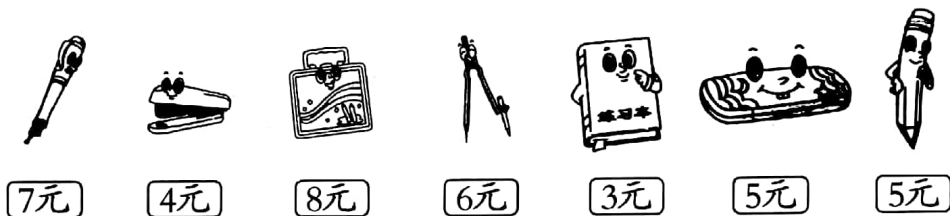
3. 乐乐把这首诗抄写了一遍,一共写了多少个汉字? 请列含有乘法的算式计算。(5 分)

回乡偶书
少小离家老大回,
乡音无改鬓毛衰。
儿童相见不相识,
笑问客从何处来。

4. 一件衬衣要钉 5 个扣子,做 8 件这样的衬衣一共要钉多少个扣子?(5 分)



5. 买文具。(11 分)



- (1) 买 6 盒 用了多少元?

- (2) 买 9 个 和 1 支 一共用了多少元?

- (3) 妈妈买了一种文具,正好用了 24 元。请你猜一猜,妈妈可能买的是哪种文具? 买了多少个?

附加题 (共10分)

根据前两个算式的规律,完成后面的算式。

$$\begin{array}{lll} 9 \times 1 = 10 - (&) & 9 \times 2 = 20 - (&) & 9 \times 3 = (&) - (&) \\ 9 \times 4 = (&) - (&) & 9 \times 5 = (&) - (&) & 9 \times 6 = (&) - (&) \end{array}$$

根据你发现的规律,再写出三个像上面这样的算式。

